

A Román-alföld

Határai

Északon: Géta-fennsík, Kanyarulati-Szubkárpatok, Moldovai-fennsík

Keleten: A Dobruzsai-fennsík, a Duna-ártere

Délen: A Duna, Bulgária

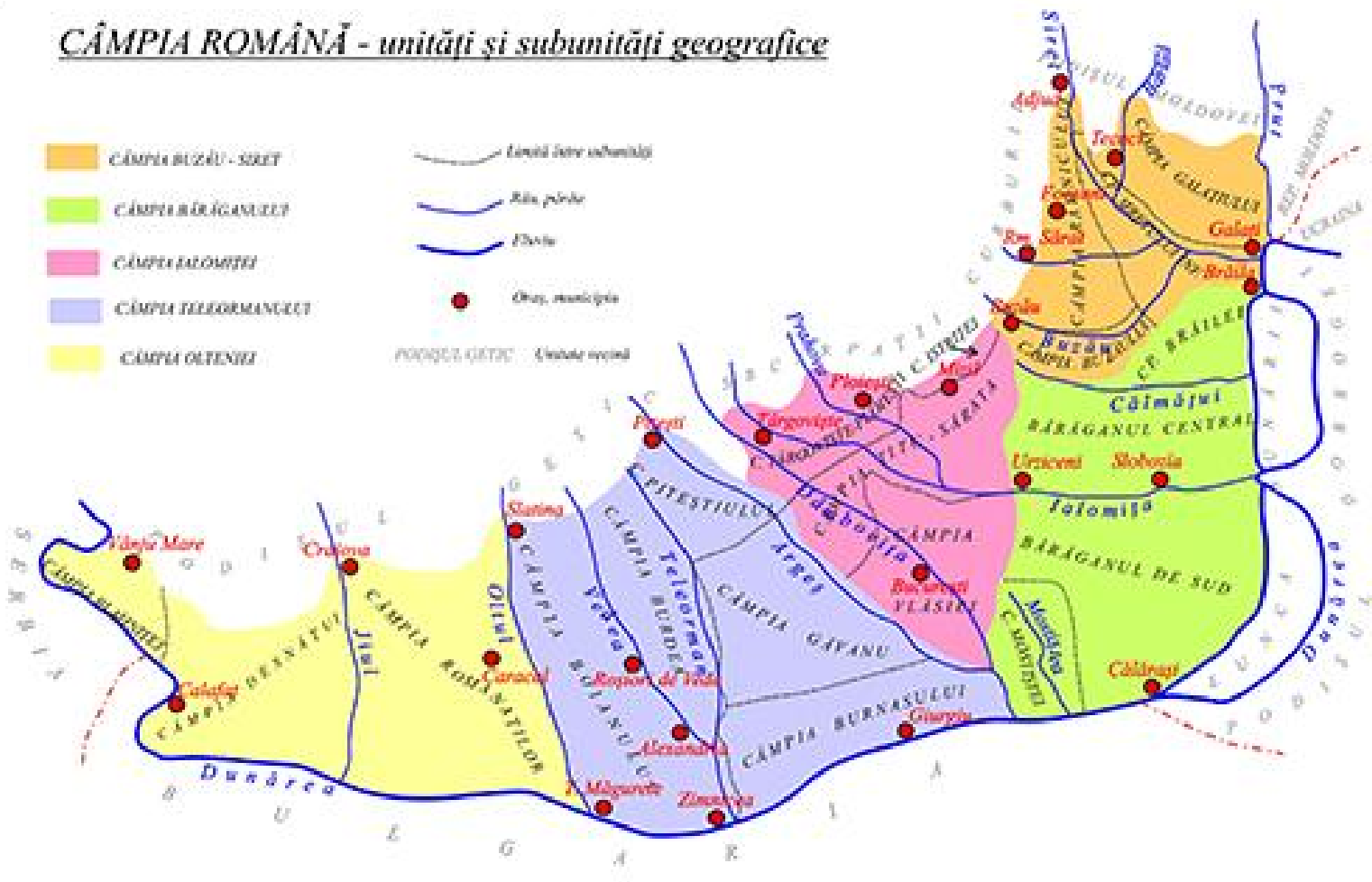
Nyugaton: A Duna

A Román-alföld tájegységei

CÂMPIA ROMÂNĂ - unități și subunități geografice

- CÂMPIA BUZĂU - SIEET
- CÂMPIA BĂRĂGANULUI
- CÂMPIA MOLDOVEI
- CÂMPIA TELEORMANULUI
- CÂMPIA OLTENEI

- Limită între județele
- Albia pârâii
- Fluviu
- Oraș, municipiu
- POZICIILE CÂMPII - Căminul raional



A Román-alföld tájegységei

1. Olténiai-síkság (a Duna és az Olt folyók között)
2. Olt-Arges-szektor vagy Teleorman-síkság(az Olt és az Arges folyók között)
3. Ialomitai-síkság
4. Bărăgan
5. Bodza-Szeret-alföldje

A Román-alföld általános jellemzői

- a Román-alföld egy régi tómedence helyén alakult ki, a Kárpátokból érkező folyók, valamint a Duna hordalékaiból, tehát üledékes kőzetekből van felépítve
- az északi részen, magasabb síkságok, úgynevezett piemont síkságok vannak, amelyek magassága a 300 métert is elérheti
- a magasságok dél felé csökkennek, 5-6 méterig, a Duna-árterében
- jellemzőek a loessös talajok
- néhány helyen sós talajok és sós tavak is vannak
- az ország legjelentősebb mezőgazdasági területe, a kedvező éghajlat és a nagyon jó minőségű talajok miatt

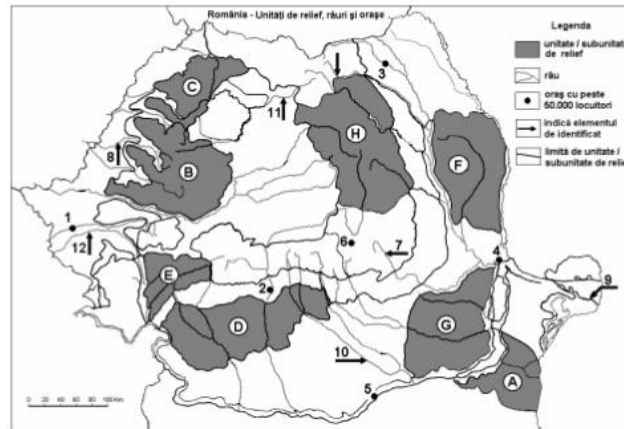
Vaktérképek

Ministerul Educației, Cercetării și Tineretului
Centrul Național pentru Curriculum și Evaluare în Învățământul Preuniversitar

Examenul de bacalaureat 2008
Proba D, E, F
Proba scrisă la GEOGRAFIE
Europa-România-Uniunea Europeană

- Toate subiectele sunt obligatorii. Se acordă 10 puncte din oficiu.
- Timpul efectiv de lucru este de 3 ore.

SUBIECTUL II (30 puncte) – Varianta 002



Harta de mai sus se referă la subiectul II A – C. Pe hartă sunt marcate unități de relief cu litere, orașe cu numere de la 1 la 6 și râuri cu numere de la 7 la 12.

A. Precizați:

1. numele unităților de relief marcate, pe hartă, cu literele **B** și **D**;
2. numele orașelor marcate, pe hartă, cu numerele **1** și **6**.

4 puncte

B. Scrieți, pe foaia de examen, răspunsurile corecte care completează propozițiile de mai jos:

1. Lacul vulcanic Sf. Ana este situat în unitatea de relief marcată, pe hartă, cu litera ...
2. Cel mai important centru siderurgic este în orașul marcat, pe hartă, cu numărul...
3. Lacuri glaciare se găsesc în unitatea de relief marcată, pe hartă, cu litera...

6 puncte

C. Scrieți, pe foaia de examen, litera corespunzătoare răspunsului corect pentru fiecare dintre afirmațiile de mai jos:

1. Stepa se întâlnește în unitatea de relief marcată, pe hartă, cu litera:
a. C b. D c. E d. G
2. Este situat într-o unitate de câmpie orașul marcat, pe hartă, cu numărul:
a. 1 b. 2 c. 3 d. 6

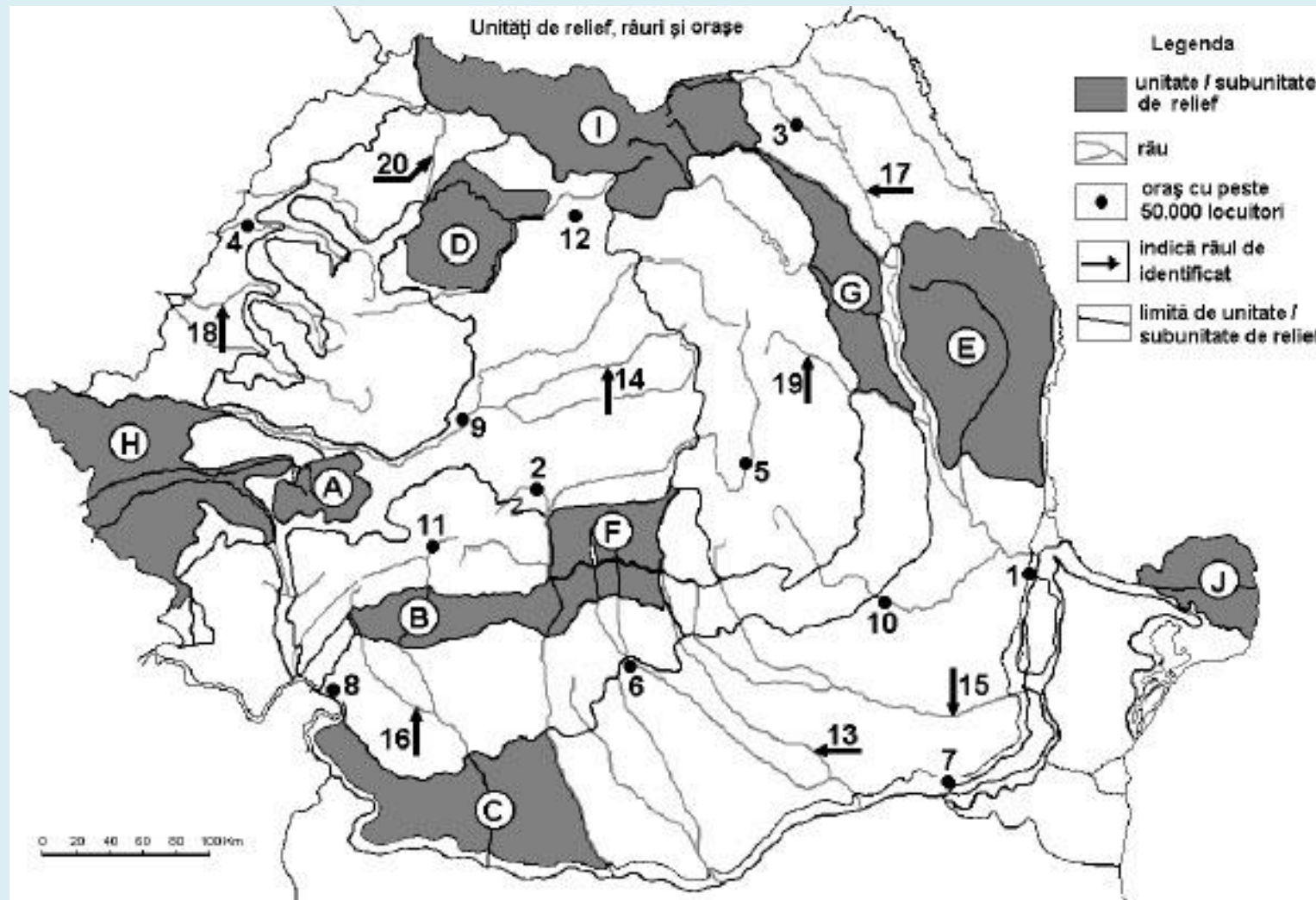
2 puncte

2 puncte

Unități de relief, râuri și orașe

Legenda

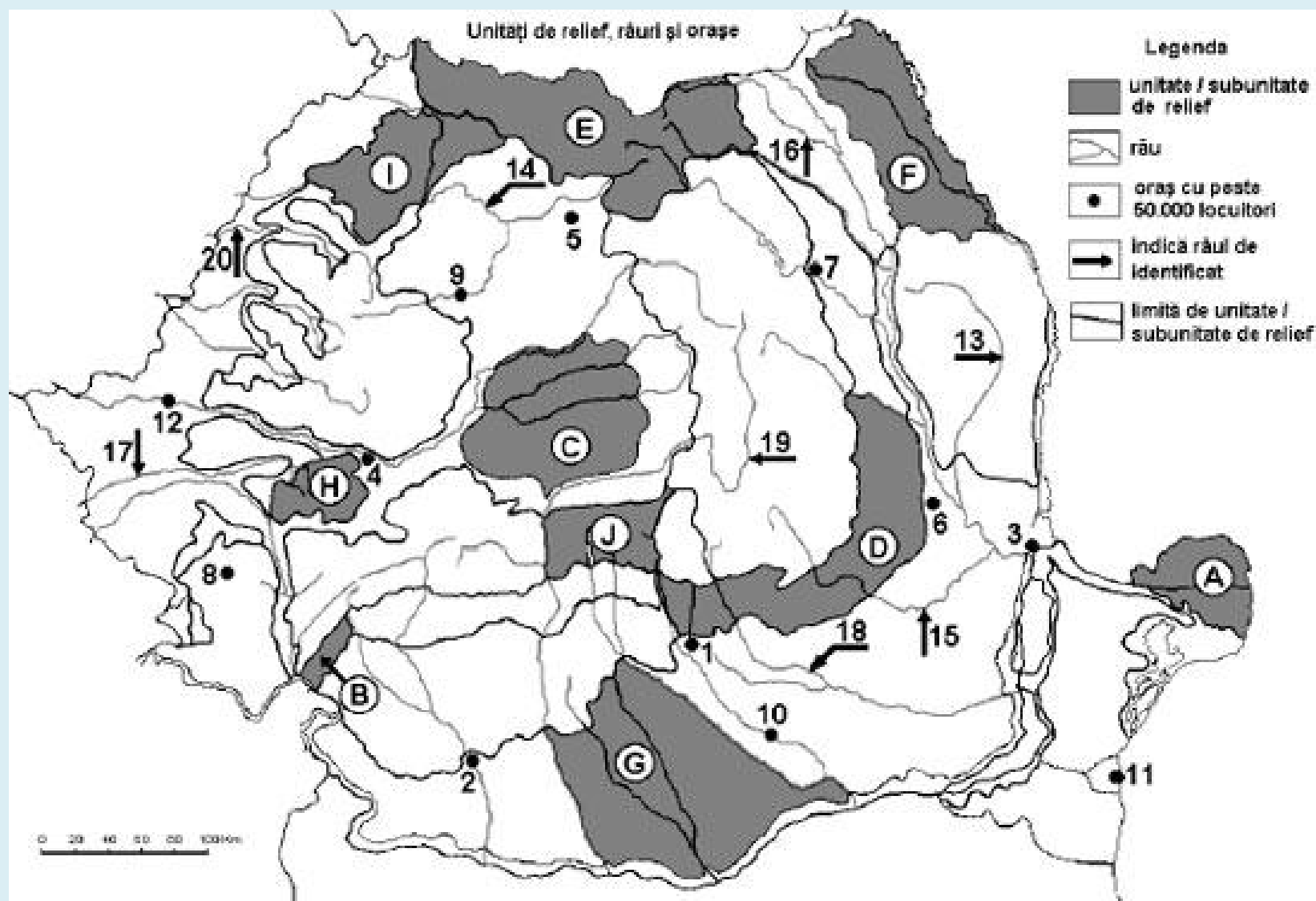
- unitate / subunitate de relief
- râu
- oraș cu peste 50.000 locuitori
- indică râul de identificat
- limită de unitate / subunitate de relief



Unitați de relief, râuri și orașe

Legenda

-  unitate / subunitate de relief
-  râu
-  oraș cu peste 50.000 locuitori
-  indică râul de identificat
-  limită de unitate / subunitate de relief



0 20 40 60 80 100 km

Feladat

Az előző dián található térképet felhasználva, hasonlítsd össze a domborzat szempontjából az E és G tájegységeket, rámutatva három különbségre!

Összegzés

Keletkezése: a folyók hordalékaiból alakult ki, egy régi tómednce helyén. Látványos és meghatározó a folyóvízi erózió

Kőzetek: Üledékes kőzetek, konglomerátumok, homokkövek, loess

Folyók: Duna, Olt, Argeş, Ialomiţa, Dâmboviţa, Szeret, Bodza

Talajok: csernozjomok, loessös talajok, sós talajok

Növényzeti öv: sztyepp és erdőssztyepp

Városok: Bukarest, Craiova, Slatina, Girgiu, Călăraşi, Piteşti, Ploieşti

Köszönöm a figyelmet!!!