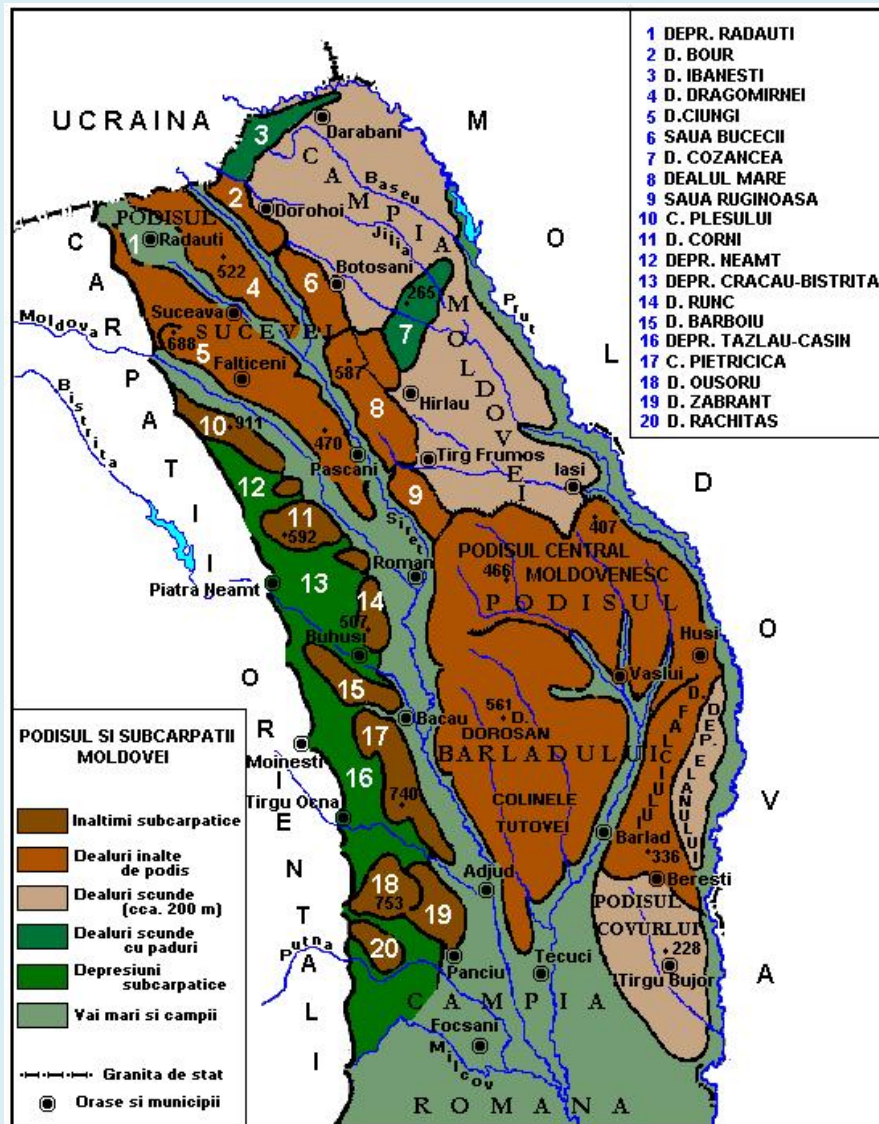


A Moldovai-fennsík

Határai

- északon: az ukrán határ
- keleten: Moldova Köztársaság, Prut
- délen: a Román-alföld,
- nyugaton: a Moldovai-szubkárpátok, és kis mértékben a Keleti-Kárpátok-északi-csoportja valamint a Kanyarulati-szubkárpátok

Tájegységei



-Szucsávai-fennsík

-Moldovai-síkság

-Közép-Moldovai-fennsík

-Bârlad-fennsík

Általános jellemzők

- a fennsíkot viszonylag fiatal üledékes kőzetek alkotják, amik egy nagyon régi, prekambriumi aljzatra tevődtek rá (ez az aljzat a Kelet-Európai-platform részét képezi).
- változó magasságú felszín: a magasságok 200 és 600 méter között változnak (a legmagasabb rész a Szucsávai-fennsík, a legalacsonyabb a Moldovai-síkság).
- általában jellemző, hogy a magasságok északról délre csökkenek (főleg a Bârlad-fennsík esetében)
- üledékes kőzetekből van felépítve

Összegzés

Segítség lehet az érettségien a III. Tétel C pontjához

Kialakulás: fiatal folyami üledékek alkatják, amelyek vastagon rátevődtek egy nagyon régi prekambriumi aljzatra.

Kőzetek: üledékes kőzetek, főként homokkövek, konglomerátum és agyag

Felszínformák: folyóvízi erózió által kialakított felszínformák

Növényzeti öv: a Moldovai-síkságon főként sztyepp és erdős-sztyepp

Talajok: változnak a magassággal. Alacsonyabb részeken csernozjom, magasabban barna erdőtalajok.

Folyók: Szeret, Prut, Bârlad, Szucsáva, Moldova, Tatros, Beszterce

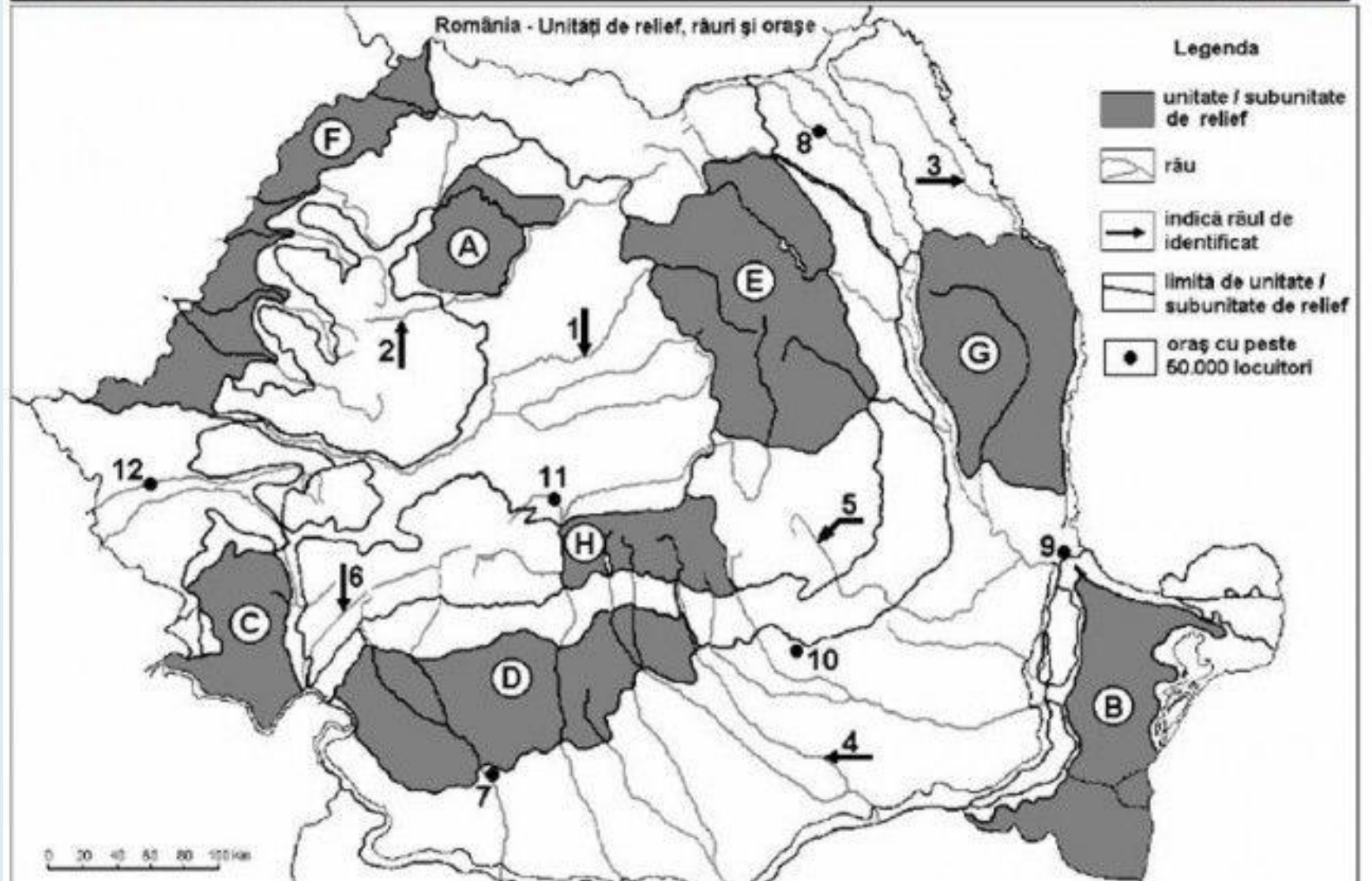
Városok: Jászvásár, Karácsonykő, Botosani, Szucsáva, Bákó

Érdekesség: az éghajlatnak és a kedvező talajoknak köszönhetően itt található egy híres szőlőtermő vidék (Cotnari környéke)

Vaktérképek

SUBIECTUL al II-lea

(30 de puncte)



4. Orașul cuprins în marcat, pe hartă, cu numărul 2 este capitala statului:
- | | | | | |
|-----------|----------|---------------|----------|----------|
| a. Berlin | b. Berna | c. Bratislava | d. Viena | 2 puncte |
|-----------|----------|---------------|----------|----------|
5. Orașul marcat, pe hartă, cu numărul 12 este capitala statului:
- | | | | | |
|-----------|------------------|--------------|-----------|----------|
| a. Belgia | b. Liechtenstein | c. Luxemburg | d. Olanda | 2 puncte |
|-----------|------------------|--------------|-----------|----------|

D. Precizați trei deosebiri între **clima** statului marcat, pe hartă, cu litera C și **clima** statului marcat, pe hartă, cu litera E.

Nota 1: Deosebirile se pot referi la oricare dintre următoarele elemente de **climă**: factori genetici, tip de climă, temperaturi medii anuale/vară/iarnă, amplitudine termică, precipitații medii anuale/vară/iarnă, vânturi cu frecvență ridicată.

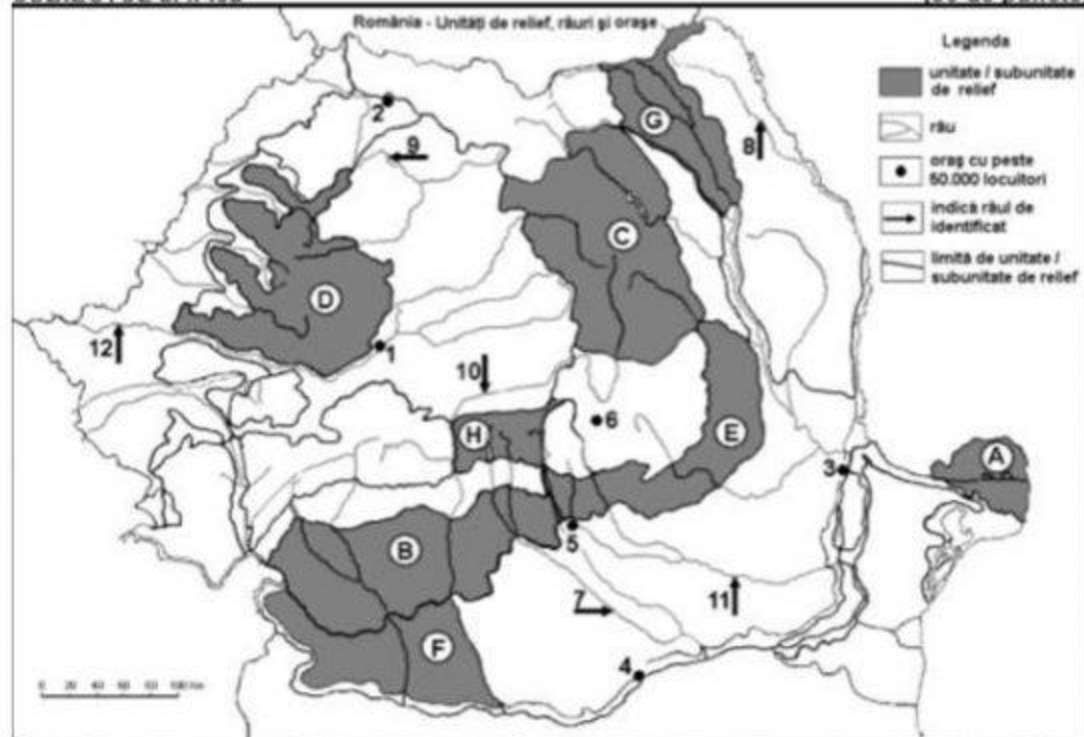
Nota 2: Punctajul complet va fi acordat numai dacă deosebirile vor fi prezentate comparativ și nu separat. **6 puncte**

E. 1. Explicați prezența unor importante resurse de apă geotermală în statul marcat, pe hartă, cu litera A.

2. Prezentați un factor natural care determină ponderea mare a terenurilor cultivate cu pomi fructiferi și viță de vie în statul marcat, pe hartă, cu litera I. **4 puncte**

SUBIECTUL al II-lea

(30 de puncte)

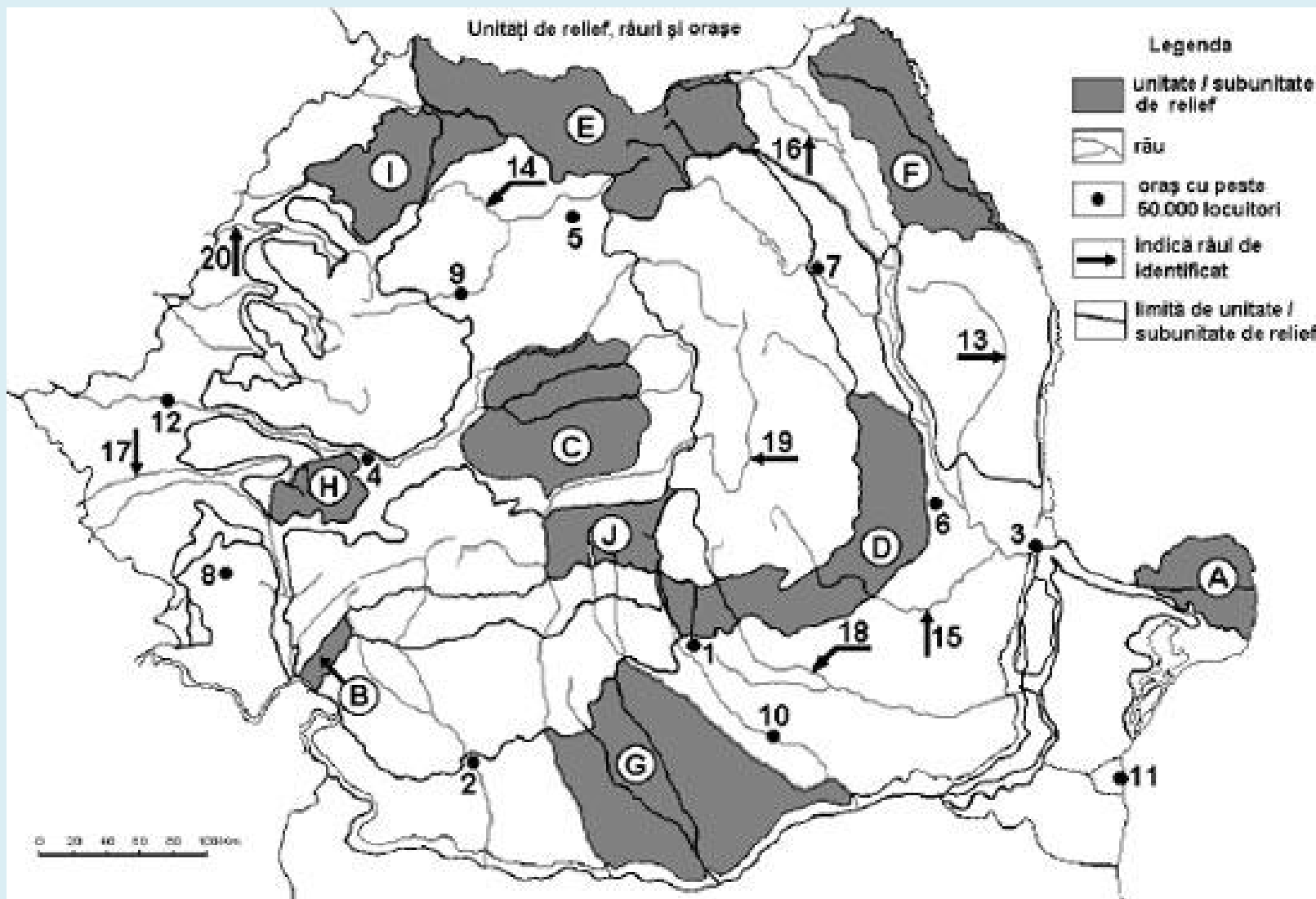


Harta de mai sus se referă la subiectul II A – D. Pe hartă sunt marcate unități de relief cu litere, orașe cu numere de la 1 la 6 și râuri cu numere de la 7 la 12.

Unitați de relief, râuri și orașe

Legenda

-  unitate / subunitate de relief
-  râu
-  oraș cu peste 50.000 locuitori
-  indică râul de identificat
-  limită de unitate / subunitate de relief



Feladat

Az előbbi térkép alapján hasonlítsd össze a domborzat szempontjából E és F tájegységeket, rámutatva három különbségre!

Köszönöm a figyelmet!!!